


# Ε' ΤΑΞΗ

## 42. Καθετότητα - Ύψη τριγώνου

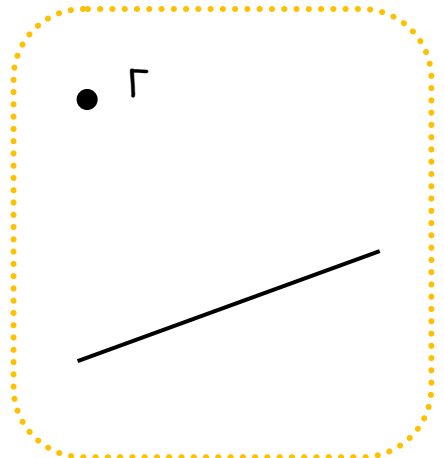
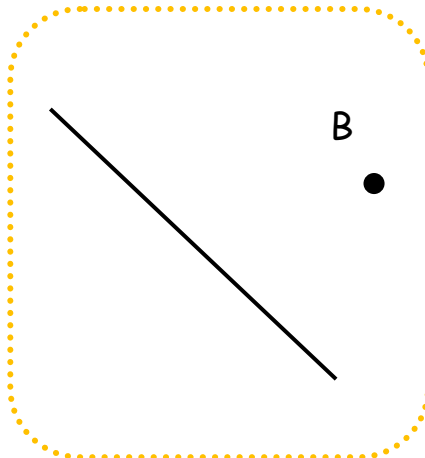
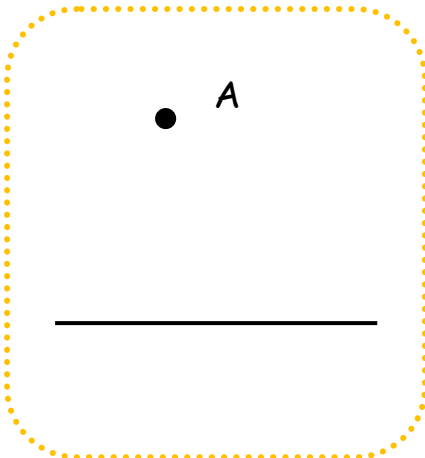


Όνομα: .....

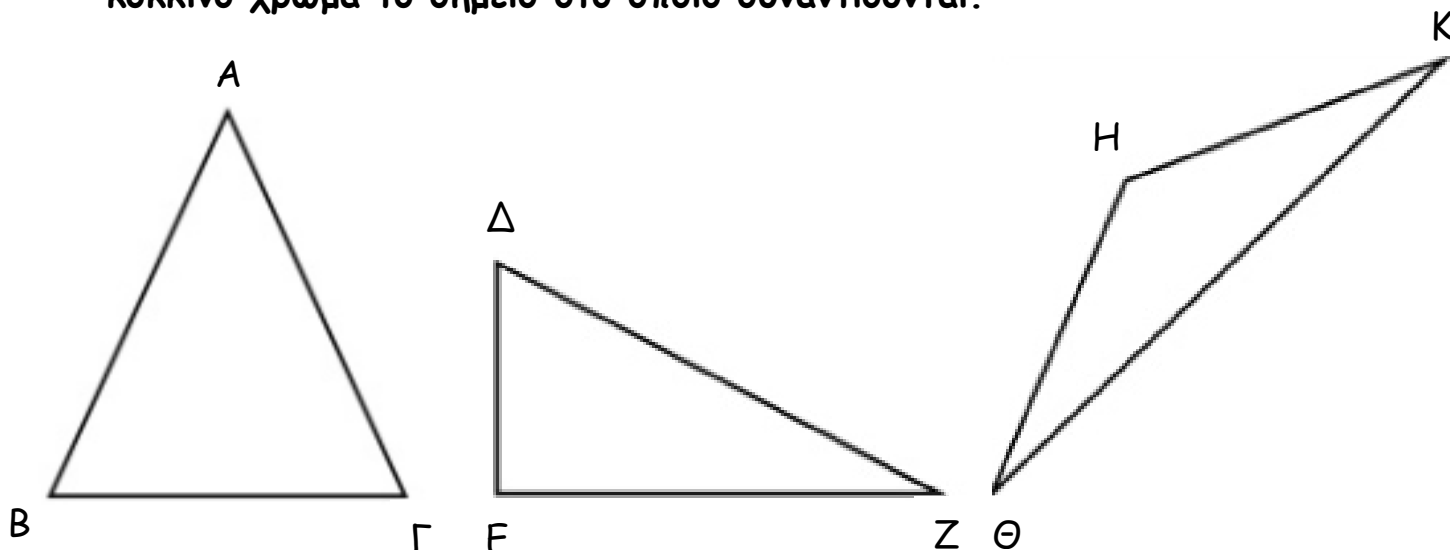
1. Να γράψεις το όνομα και το επώνυμό σου με κεφαλαία γράμματα και να κυκλώσεις όσα έχουν κάθετα ευθύγραμμα τμήματα.

A large rounded rectangular box with a purple dotted border, intended for the student to write their name and surname.

2. Χρησιμοποιώντας τον γνώμονα και τον χάρακα, να σχεδιάσεις ευθείες που περνούν από τα σημεία και είναι κάθετες στις αντίστοιχες ευθείες.



3. Να σχεδιάσετε τα ύψη των παρακάτω τριγώνων και να χρωματίσετε με κόκκινο χρώμα το σημείο στο οποίο συναντιούνται.



4. Να σχεδιάσεις μία ευθεία  $\epsilon$ . Ύστερα να φέρεις σημεία σε απόσταση

- 3 εκ.
- 5 εκ.
- 7 εκ.
- 0 εκ.

από αυτήν την ευθεία. (Μην ξεχάσεις να χαράξεις τις κάθετες ευθείες που δείχνουν την απόσταση των σημείων από την ευθεία.)

ΛΥΣΗ