


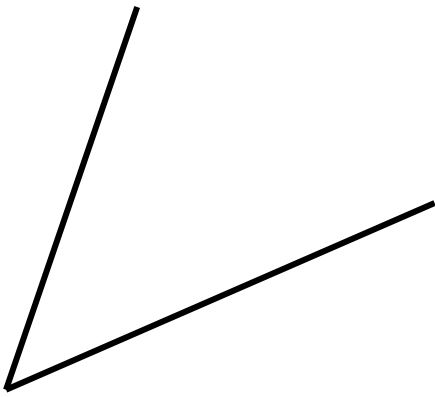
# Ε' ΤΑΞΗ

## 38. Είδη γωνιών


Όνομα: .....



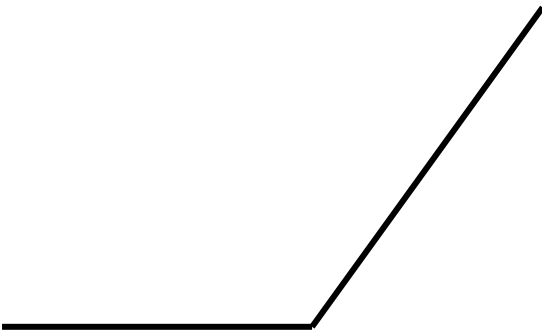
1. Ονομάστε τις παρακάτω γωνίες.




.....



.....




.....

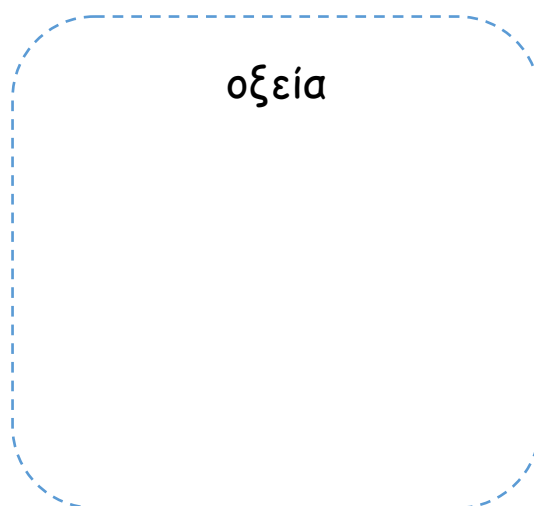


.....


2. Σχεδιάστε με γνώμονα και χάρακα τις γωνίες που ζητούνται.



ορθή



οξεία



αμβλεία

3. Παρατηρήστε τους δείκτες του ρολογιού και απαντήστε στις παρακάτω ερωτήσεις.

- Τι γωνία σχηματίζει ο ωροδείκτης με τον λεπτοδείκτη; .....
- Πότε οι δείκτες σχηματίζουν μικρότερη γωνία, στις τρεις ή στις πεντέμιση; .....  
.....
- Τι ώρα πρέπει να δείχνουν οι δείκτες για να σχηματίζουν:
  - οξεία γωνία; .....
  - ορθή γωνία; .....
  - αμβλεία γωνία; .....

