


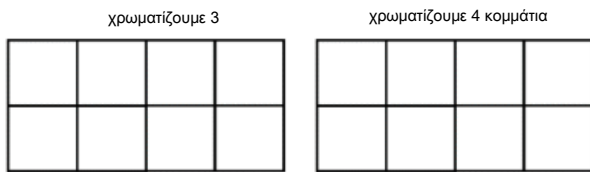
# Ε' ΤΑΞΗ

## 17. Σύγκριση και διάταξη κλασμάτων

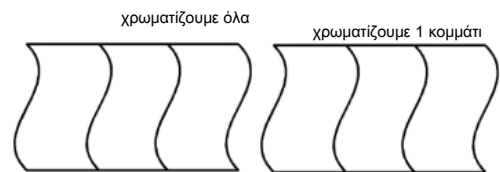
Όνομα: .....



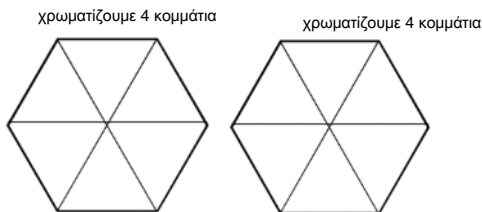
1. Χρωματίστε τα σχήματα κατάλληλα και συγκρίνετε τα κλάσματα με τα σύμβολα ισότητας και ανισότητας.



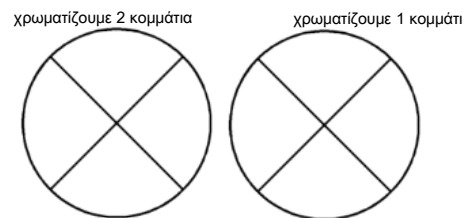
$$\frac{3}{8} < \frac{2}{4}$$



$$\frac{3}{3} > \frac{1}{3}$$



$$\frac{2}{3} = \frac{4}{6}$$



$$\frac{1}{2} > \frac{1}{4}$$

2. Τοποθετήστε τα κλάσματα από:

- το μικρότερο στο μεγαλύτερο:

$$\frac{1}{10} \quad , \quad \frac{1}{4} \quad , \quad \frac{1}{8} \quad , \quad \frac{1}{100} \quad , \quad \frac{1}{6} \quad , \quad \frac{1}{2} \quad , \quad \frac{1}{3}$$

.....1/100.....1/10.....1/8.....1/6.....1/4.....1/3.....1/2.....

- το μεγαλύτερο στο μικρότερο:

$$\frac{6}{8} \quad , \quad \frac{1}{8} \quad , \quad \frac{10}{8} \quad , \quad \frac{7}{8} \quad , \quad \frac{3}{8} \quad , \quad \frac{8}{8} \quad , \quad \frac{16}{8}$$

.....16/8 10/8 8/8 7/8 6/8 3/8 1/8.....

3. Συμπληρώστε το προηγούμενο και το επόμενο κλάσμα.

ΠΡΟΗΓΟΥΜΕΝΟ	ΚΛΑΣΜΑ	ΕΠΟΜΕΝΟ
4/8	$\frac{5}{8}$	6/8
1/8	$\frac{1}{4}$ (2/8)	3/8
8/9	$\frac{9}{9}$	10/9

4. Συμπληρώστε το κλάσμα που είναι ανάμεσα σε αυτά που δίνονται στον πίνακα.

$\frac{2}{4}$	3/4	$\frac{4}{4}$
$\frac{1}{10}$ (7/70)	8/70 ή 9/70	$\frac{1}{7}$ (10/70)
$\frac{1}{3}$ (4/12)	5/12	$\frac{1}{2}$ (6/12)

5. Να τοποθετήσετε τους παρακάτω αριθμούς στη σωστή κατηγορία.

$\frac{5}{2}$  ,  $\frac{4}{9}$  ,  $\frac{40}{40}$  ,  $\frac{8}{3}$  ,  $\frac{3}{10}$  ,  $\frac{1}{6}$  ,  $2\frac{1}{2}$  ,  $\frac{2}{2}$  ,  $\frac{4}{1}$  ,  $\frac{1.000}{1.000}$  ,  $\frac{9}{100}$  ,  $\frac{5}{11}$

Κοντά στο 0	Κοντά στο $\frac{1}{2}$	Ίσοι με το 1	Μεγαλύτεροι του 1
1/6 9/100	4/9 5/11 3/10	40/40 2/2 1000/1000	5/2 8/3 2 1/2 4/1