


Ε' ΤΑΞΗ

13. 14. 15. 16. 17. 18. 19. 20. 21. 22. 23. 24. 25. 26. 27. 28. 29. 30. 31. 32. 33. 34. 35. 36. 37. 38. 39. 40. 41. 42. 43. 44. 45. 46. 47. 48. 49. 50. 51. 52. 53. 54. 55. 56. 57. 58. 59. 60. 61. 62. 63. 64. 65. 66. 67. 68. 69. 70. 71. 72. 73. 74. 75. 76. 77. 78. 79. 80. 81. 82. 83. 84. 85. 86. 87. 88. 89. 90. 91. 92. 93. 94. 95. 96. 97. 98. 99. 100.

Όνομα:



1. Ποιο κλάσμα εκφράζει το χρωματισμένο μέρος των σχημάτων;



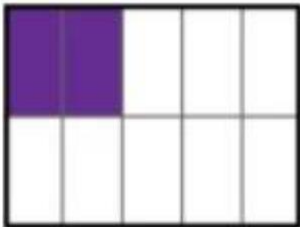
$\frac{1}{2}$




$\frac{3}{8}$



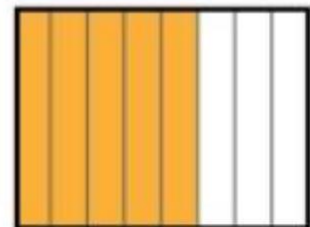
$\frac{4}{5}$



$\frac{2}{10}$




$\frac{1}{4}$



$\frac{5}{8}$

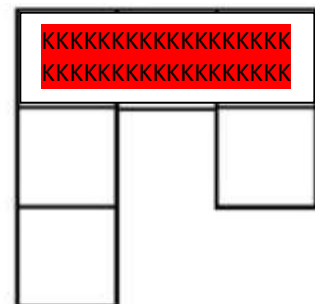
2. Χρωματίστε το μέρος που εκφράζει το κλάσμα κάτω από κάθε σχήμα.




$\frac{3}{6}$



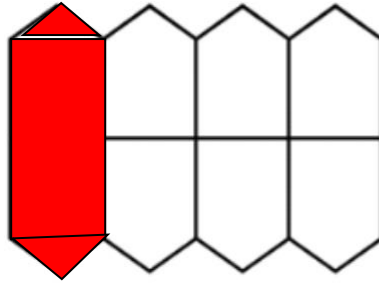
$\frac{2}{3}$



$\frac{1}{2}$



$$\frac{4}{7}$$



$$\frac{1}{4}$$



$$\frac{3}{3}$$

3. Το διπλανό σχήμα δείχνει το οικόπεδο του σχολείου μας. Τα $\frac{2}{3}$ καταλαμβάνει το κτίριο του σχολείου και τα $\frac{4}{5}$ από το υπόλοιπο είναι η αυλή. Να χρωματίσετε με κόκκινο το σχολικό κτίριο και με πράσινο την αυλή.



4. Ρωτήσαμε 200 παιδιά ποιο είναι το αγαπημένο τους μάθημα και παραστήσαμε τα αποτελέσματα σε μία πίτα. Εκφράστε με κλάσμα το μέρος των μαθητών που επέλεξε το κάθε μάθημα.

