


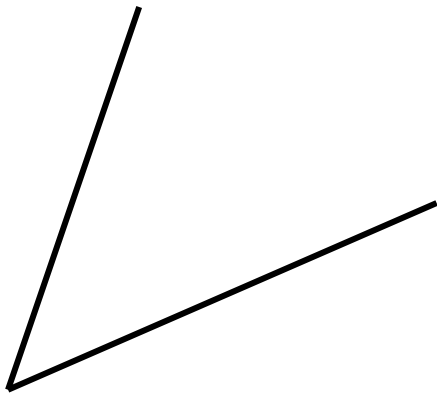
Ε' ΤΑΞΗ

38. Είδη γωνιών

Όνομα:




1. Ονομάστε τις παρακάτω γωνίες.



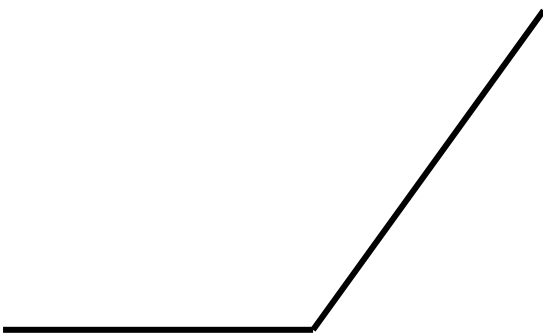
οξεία γωνία

.....



ορθή γωνία

.....



αμβλεία γωνία

.....



ορθή γωνία

.....

2. Σχεδιάστε με γνώμονα και χάρακα τις γωνίες που ζητούνται.

ορθή

οξεία

Ελέγξτε αυτά που σχεδιάσατε με βάση τις λύσεις πιο πάνω

αμβλεία

3. Παρατηρήστε τους δείκτες του ρολογιού και απαντήστε στις παρακάτω ερωτήσεις.

- Τι γωνία σχηματίζει ο ωροδείκτης με τον λεπτοδείκτη; αμβλεία γωνία.....
- Πότε οι δείκτες σχηματίζουν μικρότερη γωνία, στις τρεις ή στις πεντέμιση;
στις τρεις.....
- Τι ώρα πρέπει να δείχνουν οι δείκτες για να σχηματίζουν:
 - οξεία γωνία; ... 10:00, 11:00, 1:00, 2:00 ...
 - ορθή γωνία; 9:00, 3:00.....
 - αμβλεία γωνία; 4:00, 5:00, 7:00, 8:00.....

