

Όνομα: .....

# ΜΑΘΗΜΑΤΙΚΑ

## “ΕΙΣΑΓΩΓΗ ΣΤΑ ΚΛΑΣΜΑΤΑ”

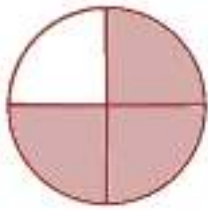


Ε

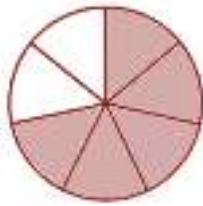
...../...../.....

### Ασκήσεις

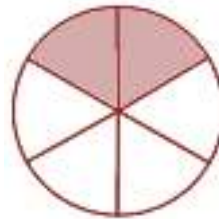
1. Γράφω το κλάσμα δίπλα από την κάθε εικόνα.



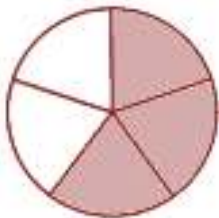
—



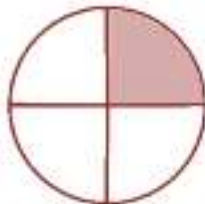
—



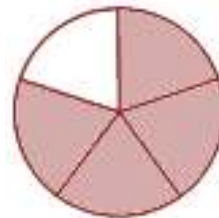
—



—



—



—

2. Συμπληρώνω τις προτάσεις.

↪ Ο αριθμητής ενός κλάσματος δηλώνει .....

↪ Η κλασματική γραμμή δηλώνει .....

↪ Ο παρονομαστής ενός κλάσματος δηλώνει .....



3. Χρωματίζω το μέρος του σχήματος που λέει το κλάσμα.


$$\frac{5}{8}$$



$$\frac{1}{4}$$



$$\frac{2}{6}$$



$$\frac{4}{10}$$

