

ΟΝΟΜΑ: _____

ΜΑΘΗΜΑΤΙΚΑ 4^η ΕΝΟΤΗΤΑ

Κεφ.23 Οι κλασματικές μονάδες

1. Γράφω το κατάλληλο κλάσμα, που δείχνει τι μέρος κάθε σχήματος είναι χρωματισμένο.







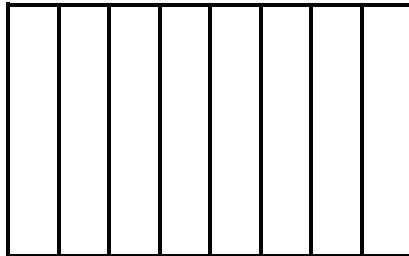


2. Χρωματίζω το μέρος του σχήματος που μου δείχνει το κλάσμα. Έπειτα γράφω το όνομα του κλάσματος με λέξεις.

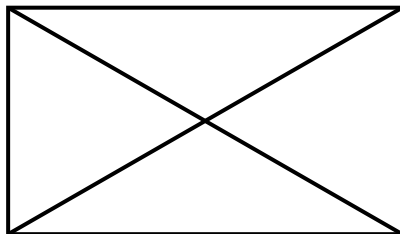
$$\frac{1}{5}$$




$$\frac{1}{8}$$



$$\frac{1}{4}$$




$$\frac{1}{6}$$




3. Χωρίζω τον κύκλο και χρωματίζω το μέρος που μου δείχνει το κάθε κλάσμα.



$$\frac{1}{2}$$

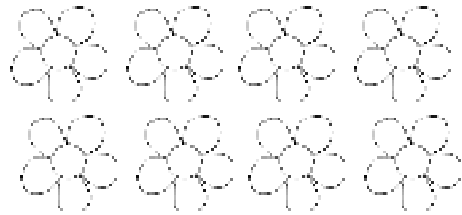
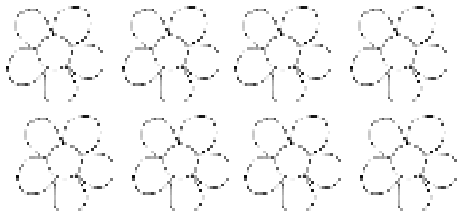


$$\frac{1}{4}$$



$$\frac{1}{8}$$

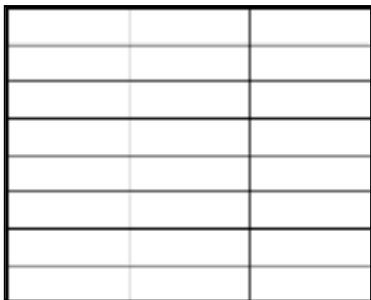
4. Χρωματίζω όσα λουλούδια μου λέει το κλάσμα.



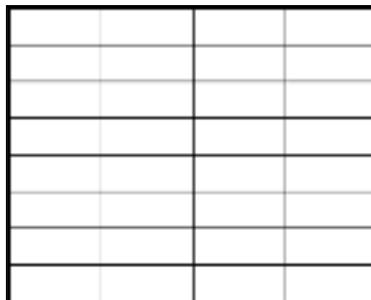
$$\frac{1}{2}$$

$$\frac{1}{4}$$

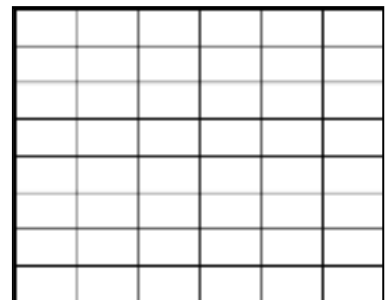
5. Χρωματίζω όσα λέει το κλάσμα.



$$\frac{1}{3}$$



$$\frac{1}{4}$$



$$\frac{1}{6}$$