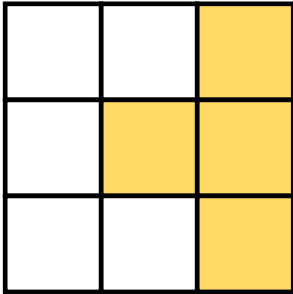


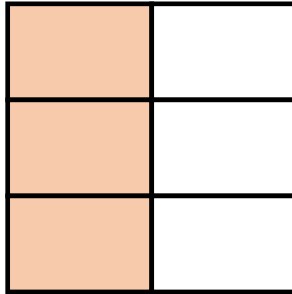
ΟΝΟΜΑ: _____


ΜΑΘΗΜΑΤΙΚΑ 4^η ΕΝΟΤΗΤΑ

Κεφ.24 Οι κλασματικές μονάδες και οι απλοί κλασματικοί αριθμοί

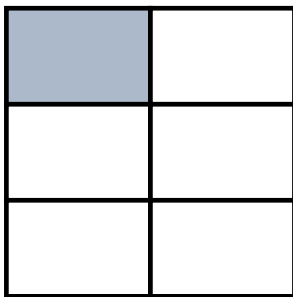
1. Γράφω το κλάσμα που δηλώνει το χρωματισμένο μέρος κάθε σχήματος.



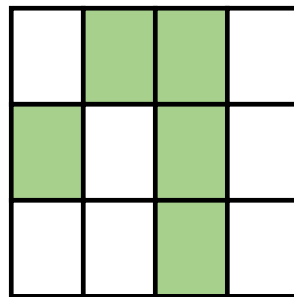




Τα κλάσματα που έχουν αριθμητή το ένα λέγονται **κλασματικές μονάδες**. Τα υπόλοιπα λέγονται **απλοί κλασματικοί αριθμοί**.

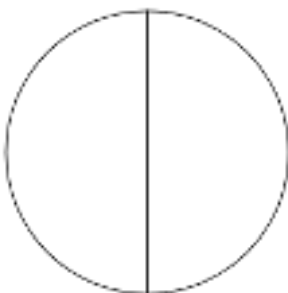




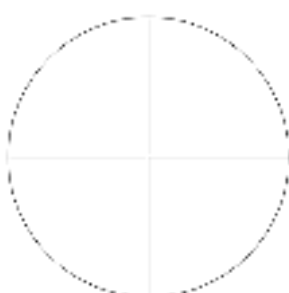




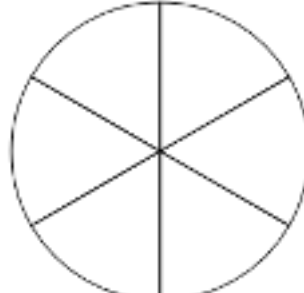
2. Χρωματίζω το μέρος του κύκλου που μου δείχνει κάθε κλάσμα.



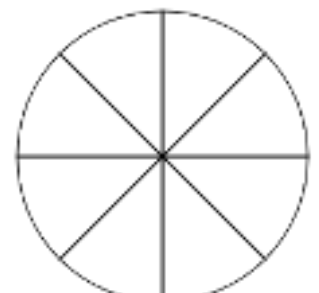
$$\frac{1}{2}$$



$$\frac{4}{4}$$



$$\frac{3}{6}$$



$$\frac{7}{8}$$

3. Τα παιδιά μοιράστηκαν τα παρακάτω μπισκότα.



Όλα τα
μπισκότα είναι

Γράφω με κλάσμα πόσα μπισκότα πήρε το κάθε παιδί.

Πέτρος




Ελπίδα



Φωτεινή



4. Γέμισε την γυάλα με μπίλιες σύμφωνα με τις οδηγίες:



Το $\frac{1}{9}$ να είναι κόκκινες

Τα $\frac{3}{9}$ να είναι πράσινες

Τα $\frac{5}{9}$ να είναι κίτρινες