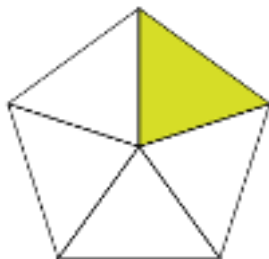
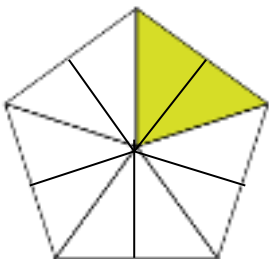
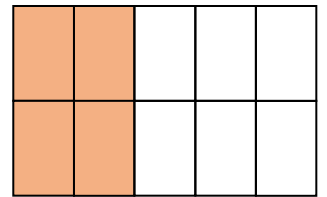
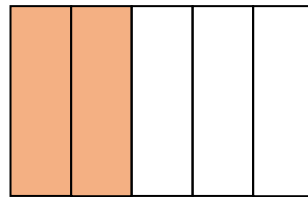
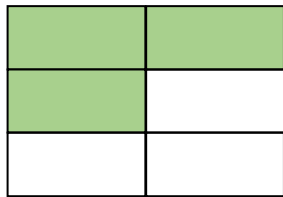
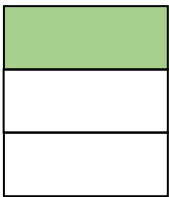
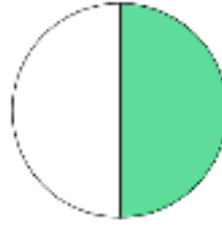
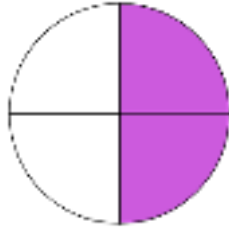
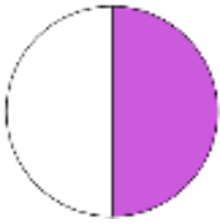


ΟΝΟΜΑ: _____

ΜΑΘΗΜΑΤΙΚΑ 4^η ΕΝΟΤΗΤΑ

Κεφ. 25 Ισοδύναμα κλάσματα

1. Βρίσκω τα κλάσματα. Έπειτα βάζω το σύμβολο της ισότητας (=) μόνο στα ζεύγη κλασμάτων που είναι ισοδύναμα.

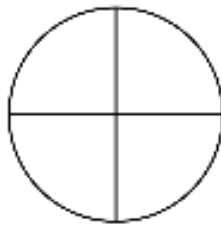
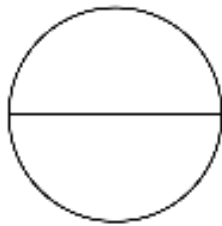


Ισοδύναμα λέγονται τα κλάσματα που εκφράζουν την ίδια ποσότητα.

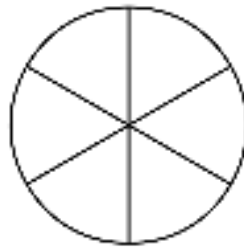


2. Δημιουργώ ισοδύναμα κλάσματα ζωγραφίζοντας τα αντίστοιχα μέρη των σχημάτων. Έπειτα γράφω δίπλα τα ισοδύναμα κλάσματα.

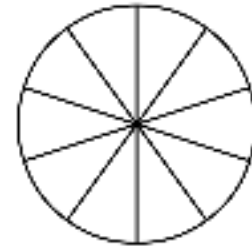
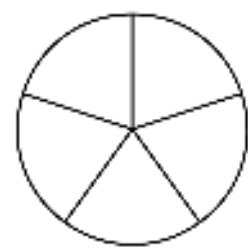
3
4



_____ = _____



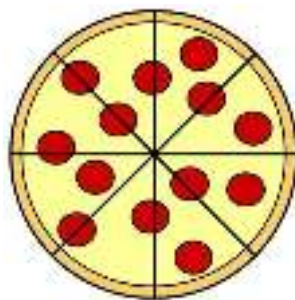
_____ = _____



_____ = _____

3. Ο Δημήτρης και ο Παναγιώτης παραγγέλνουν πίτσα στο σπίτι. Η πίτσα είναι χωρισμένη σε 8 κομμάτια.

Δημήτρης



Παναγιώτης

Ο Δημήτρης τρώει το $\frac{1}{2}$ της πίτσας. Πόσα κομμάτια έφαγε; _____

Ο Παναγιώτης τρώει τα $\frac{4}{8}$ της πίτσας. Πόσα κομμάτια έφαγε; _____

Ποιος έφαγε περισσότερα κομμάτια; _____