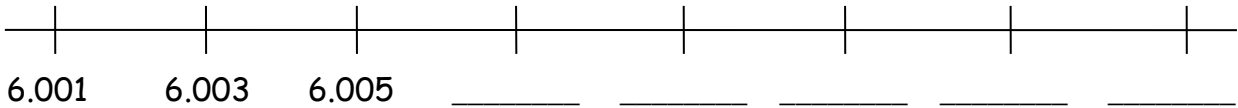
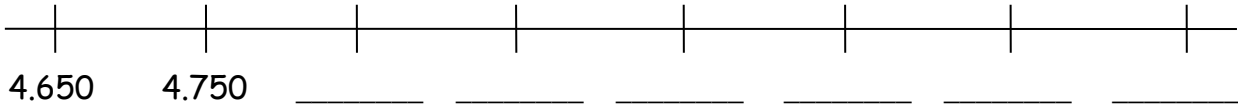


ΟΝΟΜΑ: _____

ΜΑΘΗΜΑΤΙΚΑ 7^η ΕΝΟΤΗΤΑ
Κεφ. 45 Επαναληπτικό Μάθημα

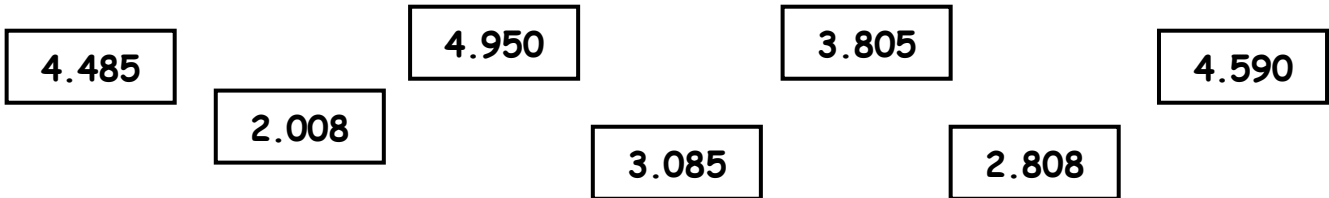
1. Συμπληρώνω τους αριθμούς που λείπουν



2. Συμπληρώνω τα μοτίβα.



3. Βάζω τους παρακάτω αριθμούς στη σειρά από το μικρότερο στο μεγαλύτερο.



_____ < _____ < _____ < _____ < _____ < _____ < _____

4. Βρίσκω και σχεδιάζω τους άξονες συμμετρίας με κόκκινο χρώμα στα παρακάτω γράμματα.

Ε

Η

Φ

5. Γράφω τον προηγούμενο και τον επόμενο αριθμό σε καθέναν από τους παρακάτω αριθμούς.

_____ 4.000 _____

_____ 6.458 _____

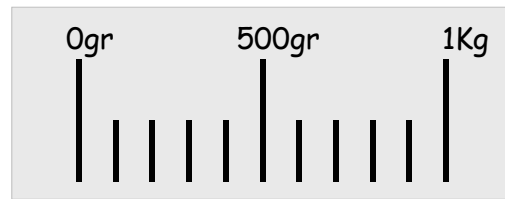
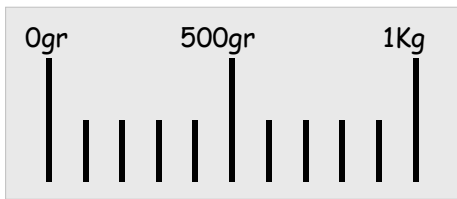
_____ 5.500 _____

_____ 2.900 _____

_____ 1.680 _____

_____ 3.999 _____

6. Σχεδιάζω τον δείκτη στις ζυγαριές.



7. Πόσα γραμμάρια είναι;

1 κιλό = _____

3 κιλά = _____

6 κιλά = _____

μισό κιλό = _____

1 τέταρτο του κιλού = _____

3 τέταρτα του κιλού = _____

2,5 κιλά = _____

2 κιλά 500 γραμμ. = _____

5 κιλά 5 γραμμ. = _____

8. Λύνω το παρακάτω πρόβλημα:

Ο Σωκράτης ζυγίζει 38,5 κιλά. Ο Ηλίας είναι 3,5 κιλά βαρύτερος.

A. Πόσα κιλά ζυγίζει ο Ηλίας;

B. Αν ανέβουν και οι δύο φίλοι μαζί στη ζυγαριά, ποια θα είναι η ένδειξή της;

Ερώτημα A.



Ερώτημα B.