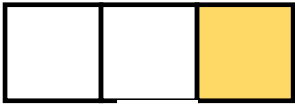


ΟΝΟΜΑ: \_\_\_\_\_

## ΜΑΘΗΜΑΤΙΚΑ 4<sup>η</sup> ΕΝΟΤΗΤΑ

### Κεφ.23 Οι κλασματικές μονάδες

1. Γράφω το κατάλληλο κλάσμα, που δείχνει τι μέρος κάθε σχήματος είναι χρωματισμένο.



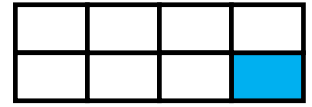
$$\frac{1}{3}$$



$$\frac{1}{4}$$




$$\frac{1}{2}$$



$$\frac{1}{8}$$

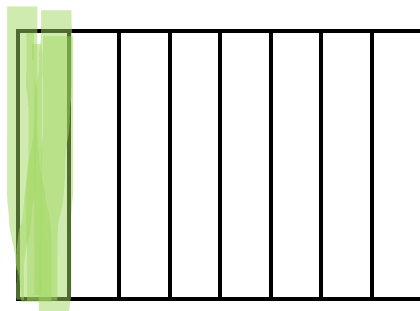
2. Χρωματίζω το μέρος του σχήματος που μου δείχνει το κλάσμα. Έπειτα γράφω το όνομα του κλάσματος με λέξεις.

$$\frac{1}{5}$$



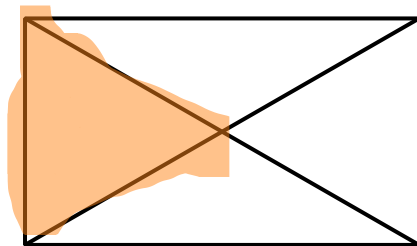
ένα πέμπτο

$$\frac{1}{8}$$



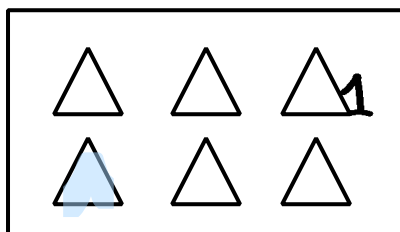
ένα όγδοο

$$\frac{1}{4}$$



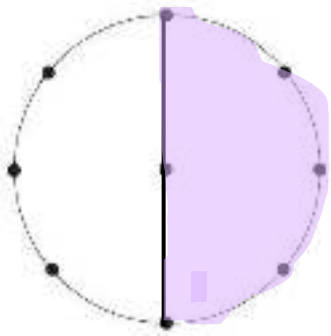
ένα τέταρτο

$$\frac{1}{6}$$

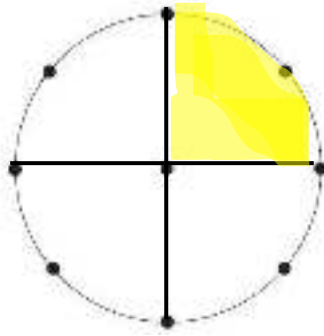


ένα έκτο

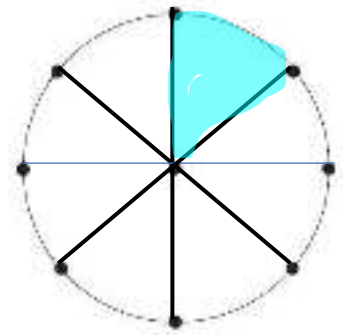
3. Χωρίζω τον κύκλο και χρωματίζω το μέρος που μου δείχνει το κάθε κλάσμα.



$$\frac{1}{2}$$

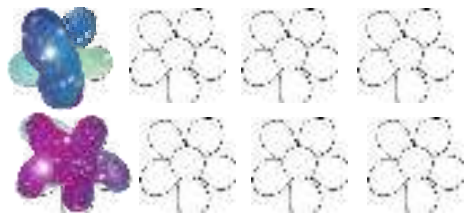



$$\frac{1}{4}$$



$$\frac{1}{8}$$


4. Χρωματίζω όσα λουλούδια μου λέει το κλάσμα.




$$\frac{1}{2}$$

$$\frac{1}{4}$$


5. Χρωματίζω όσα λέει το κλάσμα.



$$\frac{1}{3}$$



$$\frac{1}{4}$$



$$\frac{1}{6}$$