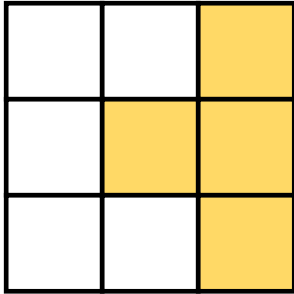


ΟΝΟΜΑ: _____


ΜΑΘΗΜΑΤΙΚΑ 4^η ΕΝΟΤΗΤΑ

Κεφ.24 Οι κλασματικές μονάδες και οι απλοί κλασματικοί αριθμοί


1. Γράφω το κλάσμα που δηλώνει το χρωματισμένο μέρος κάθε σχήματος.



$$\frac{4}{9}$$

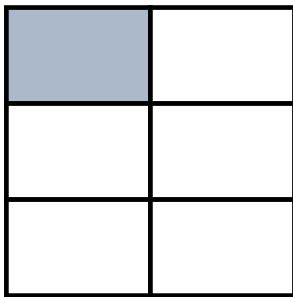


$$\frac{3}{6}$$

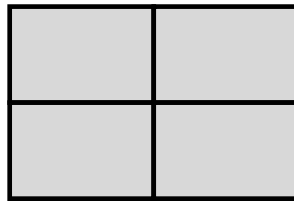


$$\frac{1}{3}$$

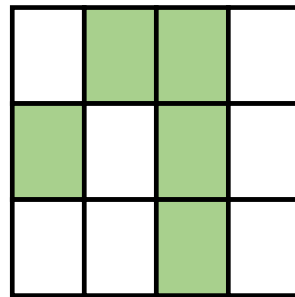
Τα κλάσματα που έχουν αριθμητή το ένα λέγονται **κλασματικές μονάδες**. Τα υπόλοιπα λέγονται **απλοί κλασματικοί αριθμοί**.



$$\frac{1}{6}$$



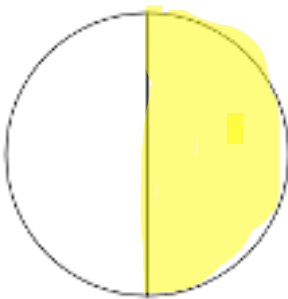
$$\frac{4}{4}$$



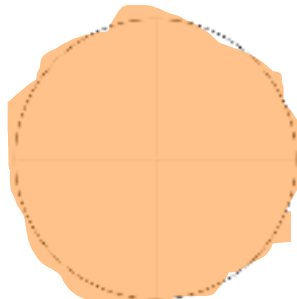
$$\frac{5}{12}$$



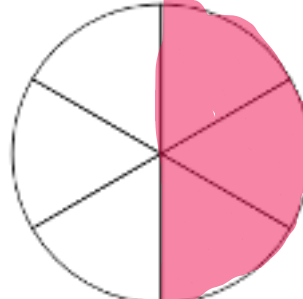
2. Χρωματίζω το μέρος του κύκλου που μου δείχνει κάθε κλάσμα.



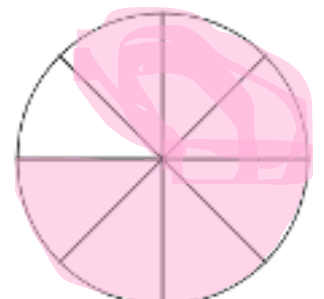
$$\frac{1}{2}$$



$$\frac{4}{4}$$



$$\frac{3}{6}$$



$$\frac{7}{8}$$

3. Τα παιδιά μοιράστηκαν τα παρακάτω μπισκότα.

Όλα τα
μπισκότα είναι



8

Γράφω με κλάσμα πόσα μπισκότα πήρε το κάθε παιδί.

Πέτρος



$$\frac{5}{8}$$

Ελπίδα




$$\frac{3}{8}$$

Φωτεινή



$$\frac{4}{8}$$

4. Γέμισε την γυάλα με μπίλιες σύμφωνα με τις οδηγίες:



Τα $\frac{1}{9}$ να είναι κόκκινες.

Τα $\frac{3}{9}$ να είναι πράσινες

Τα $\frac{5}{9}$ να είναι κίτρινες