

ΟΝΟΜΑ: _____

ΜΑΘΗΜΑΤΙΚΑ 1^η ΕΝΟΤΗΤΑ

Κεφ.5 Πολλαπλασιασμός και Προπαίδεια ΙΙ

1. Χρωματίζω τα κουτάκια των αποτελεσμάτων της προπαίδειας του 6.

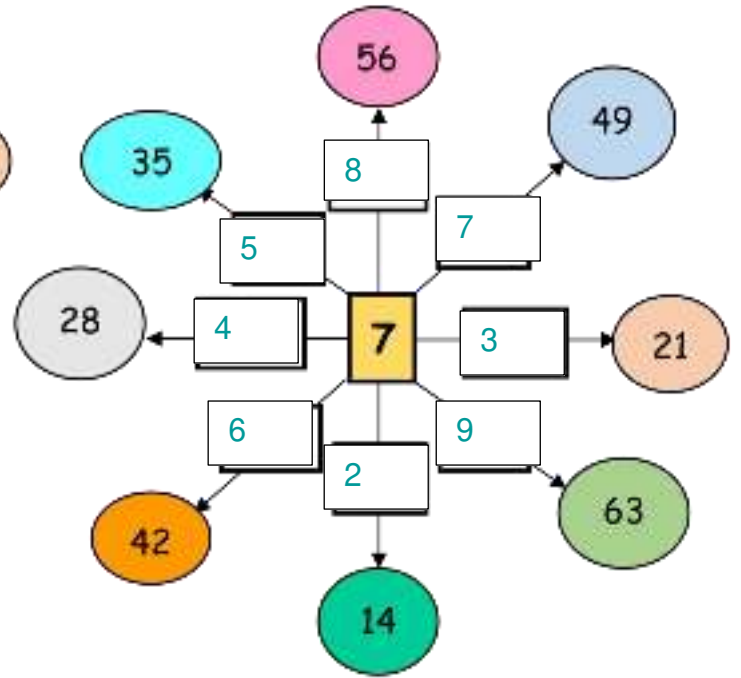
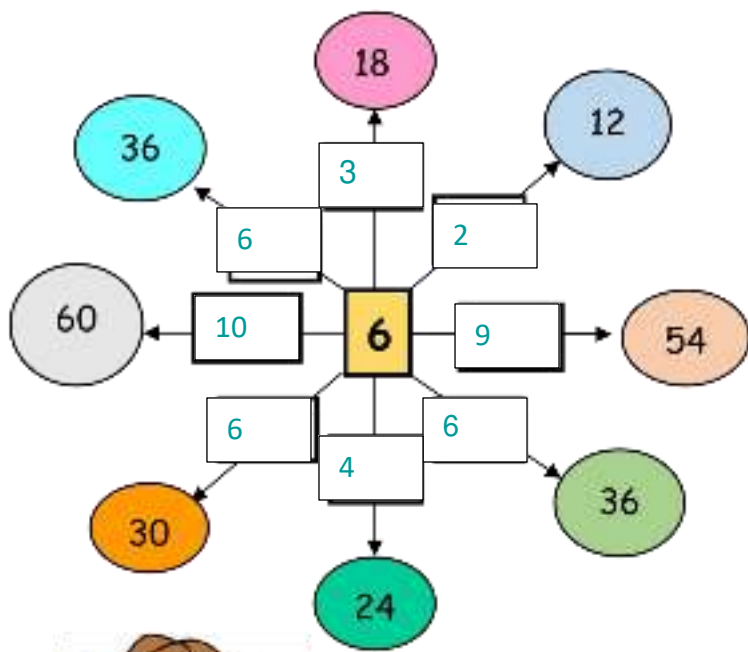


1	2	3	4	5	6	7	8	9	10
11	12	13	14	15	16	17	18	19	20
21	22	23	24	25	26	27	28	29	30
31	32	33	34	35	36	37	38	39	40
41	42	43	44	45	46	47	48	49	50
51	52	53	54	55	56	57	58	59	60

2. Συμπληρώνω τον πίνακα της προπαίδειας του 7.

X	1	2	3	4	5	6	7	8	9	10
7	7	14	21	28	35	42	49	56	63	70

3. Συμπληρώνω του αριθμούς στόχους με τα σωστά γινόμενα της προπαίδειας του 6 και του 7.



4. Βρίσκω το σωστό πολλαπλασιασμό για να λύσω τα παρακάτω προβλήματα:

Ο μήνας Σεπτέμβριος έχει τέσσερις εβδομάδες. Πόσες ημέρες έχει ο μήνας Σεπτέμβριος αν υποθέσουμε ότι κάθε εβδομάδα διαρκεί 7 ημέρες;



Λύση: $4 \times 7 = 28$

Απάντηση: Ο Σεπτέμβριος έχει 28 μέρες.

Αν σε μια πίτσα υπάρχουν 6 κομμάτια.

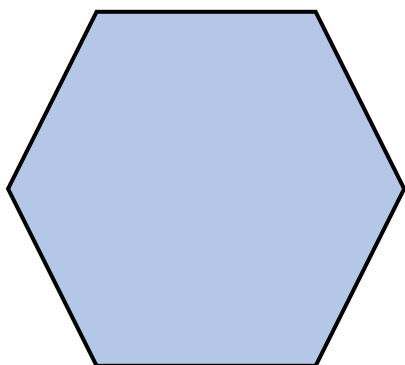
1. Πόσα κομμάτια υπάρχουν σε 3 πίτσες;
2. Πόσα κομμάτια υπάρχουν σε 9 πίτσες;



Λύση 1: $3 \times 6 = 18$

Λύση 2: $9 \times 6 = 54$

Απάντηση: Στις 3 πίτσες υπάρχουν 18 κομμάτια και στις 9 πίτσες 54 κομμάτια.



Ένα εξάγωνο Έχει 6 πλευρές .

1) Πόσες πλευρές έχουν τα 5 εξάγωνα;

$5 \times 6 = 30$, Έχουν τριάντα πλευρές

2) Πόσες πλευρές έχουν τα 7 εξάγωνα;

$7 \times 6 = 42$, Έχουν 42 πλευρές.