

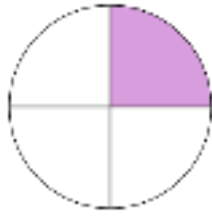
ΟΝΟΜΑ: \_\_\_\_\_

**ΜΑΘΗΜΑΤΙΚΑ 4<sup>η</sup> ΕΝΟΤΗΤΑ**  
**Κεφ.22 Εισαγωγή στα κλάσματα 2**

1. Γράφω το κατάλληλο κλάσμα, που δείχνει τι μέρος κάθε σχήματος είναι χρωματισμένο, όπως το παράδειγμα.



$$\frac{1}{2}$$



$$\frac{1}{4}$$

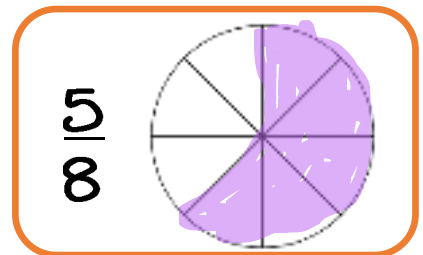
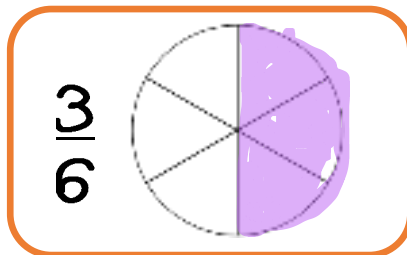
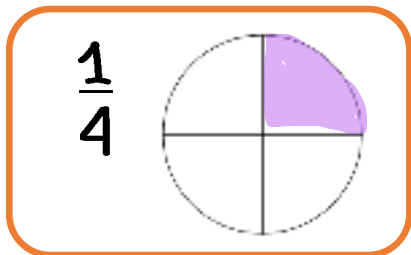


$$\frac{2}{3}$$



$$\frac{2}{5}$$

2. Χρωματίζω το μέρος της πίτας που μου δείχνει το κάθε κλάσμα.



3. Λύνω το παρακάτω πρόβλημα.

Η κυρία Γεωργία μοίρασε ισάξια την σοκολάτα που φαίνεται στην εικόνα στους εννιά μαθητές της.



Γράφω με κλάσμα πόσο κομμάτια θα πάρει ο κάθε μαθητής/μαθήτρια:



σοκολάτας.

Κάθε παιδί θα πάρει το

$$\frac{1}{9}$$

της

ΓΕΩΡΓΙΑ ΜΟΥΤΖΟΥΡΗ | <https://teachergeorgiasclass.weebly.com/>