

ΟΝΟΜΑ: _____

ΜΑΘΗΜΑΤΙΚΑ 4^η ΕΝΟΤΗΤΑ
Κεφ.22 Εισαγωγή στα κλάσματα 1

1. Γράφω πώς ονομάζονται οι όροι του κλάσματος.



2. Γράφω πώς διαβάζονται τα παρακάτω κλάσματα, όπως το παράδειγμα.

$\frac{1}{2}$ ένα δεύτερο



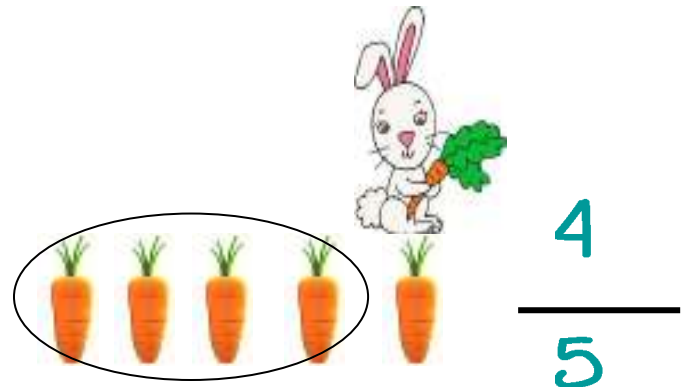
$\frac{1}{3}$ ένα τρίτο

$\frac{2}{4}$ δύο τέταρτα

$\frac{3}{5}$ τρία πέμπτα

Το κλάσμα αυτό
διαβάζεται
ένα τέταρτο.





3. Γράφω με κλάσμα τα καρότα που μάζεψε κάθε φορά ο λαγός.

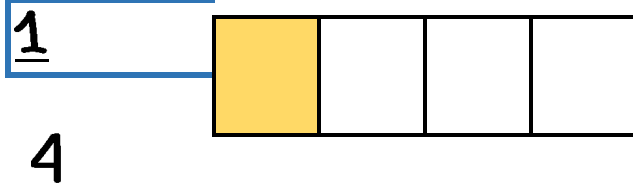
$$\frac{1}{5}$$

$$\frac{4}{5}$$

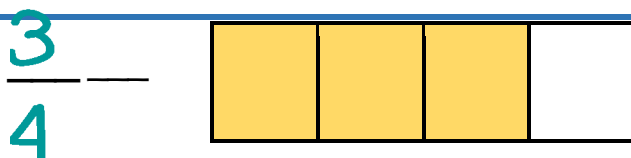
$$\frac{2}{10}$$

$$\frac{3}{8}$$

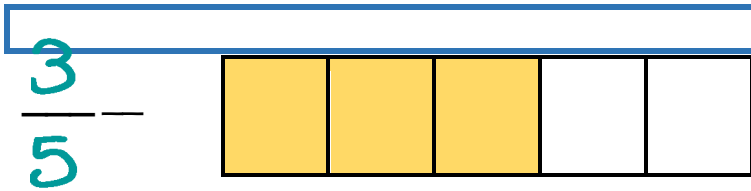
4. Βρίσκω το κλάσμα. Έπειτα περιγράφω με λόγια τι μου δείχνει το κάθε κλάσμα.



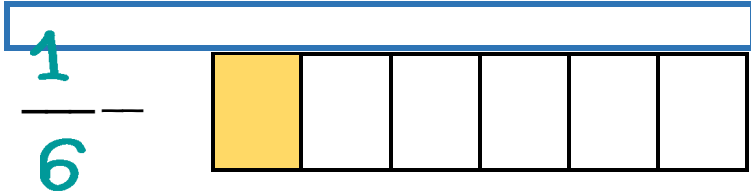
Από τα 4 μέρη έβρασα το 1



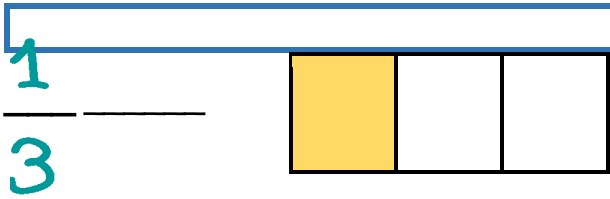
Από τα 4 μέρη έβρασα τα 3_



Από τα 5 μέρη έβαψα τα 3



Από τα 6 μέρη έβαψα το ένα.



Από τα τρία μέρη έβαψα το 1.