


Προβληματάκια !!! Ελάτε να τα λύσουμε μαζί.

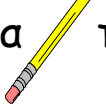


1. Η Μαρία μάζεψε από την πιπεριά 18 πιπέρια.  Θέλει να τα βάλει σε σακούλια. Σε κάθε σακούλι θα βάλει 6 πιπέρια. Πόσα σακούλια θα χρειαστεί;

Σχέδιο

Μαθηματική πρόταση:

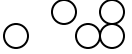
Απάντηση:

2. Ο Αντρέας έχει 20 σεντ. Πόσα μολύβια  των 5 σεντ μπορεί να αγοράσει;

Σχέδιο

Μαθηματική πρόταση:


Απάντηση:

3. Ο Χρίστος, ο Πάρης και ο Αντρέας αγόρασαν 12 βόλους και θέλουν να τους μοιραστούν στα ίσα. Πόσους βόλους πρέπει να πάρει ο καθένας; 


Σχέδιο

Μαθηματική πρόταση:

Απάντηση:



4. Στην τάξη μας έχουμε δύο βάζα. Τη Δευτέρα, η Ραφαηλία έφερε 16 λουλούδια. Πόσα λουλούδια πρέπει να βάλουμε στο κάθε βάζο, αν θέλουμε να έχουν τον ίδιο αριθμό λουλουδιών;



Σχέδιο

Μαθηματική πρόταση:

Απάντηση:

5. Ο πατέρας του Τάκη έφερε στο σπίτι 20 χρυσόψαρα. Πόσες γυάλες θα χρειαστούν, αν σε κάθε γυάλα θα βάλουν 5 χρυσόψαρα;



Σχέδιο

Μαθηματική πρόταση:

Απάντηση:

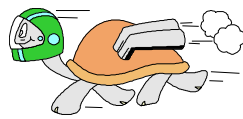
6. Ένας περιβολάρης θέλει να φυτέψει 18 πορτοκαλιές σε 3 σειρές. Πόσες πορτοκαλιές θα πρέπει να φυτέψει σε κάθε σειρά για να έχουν όλες οι σειρές τον ίδιο αριθμό πορτοκαλιών;



Σχέδιο

Μαθηματική πρόταση:

Απάντηση:



Όνομα: Τάξη: Ημερομηνία:

Φωτεινή Τρίκκη