


















ΟΝΟΜΑ: _____

https://teachergeorgiasclass.weebly.com/uploads/4/5/0/7/45072177/%CE%9A%CE%B5%CF%86.12_%CE%A


ΜΑΘΗΜΑΤΙΚΑ 2^η ΕΝΟΤΗΤΑ

Κεφ.12: Υπολογίζω τα ρέστα (2)

1. Συμπληρώνω τον παρακάτω πίνακα. (Τα παιδιά μπορούν να ζωγραφίσουν όποια κέρματα ίσης αξίας με τα ρέστα. Εδώ δίνονται ενδεικτικές απαντήσεις.)

Αγόρασα	Τα χρήματα που έχεις στην τσέπη σου.	Θα πάρεις ρέστα; (Γράφω ΝΑΙ ή ΟΧΙ)	Πόσα ρέστα θα πάρεις; (Ζωγραφίζω τα κέρματα)
 1€ 40λ.		ΝΑΙ	
 2€ 50λ.		ΝΑΙ	
 1€ 20λ.		ΟΧΙ	
 50λ.		ΝΑΙ	
 4€ 10λ.		ΝΑΙ	
 3€ 70λ.		ΝΑΙ	

2. Λύνω τα παρακάτω προβλήματα:

Η  αγόρασε από το μαγαζάκι ένα




που κοστίζει



Έδωσε 

Πόσα ρέστα θα πάρει; Ζωγράφισε εδώ.



Ο  αγόρασε από το ίδιο μαγαζί ένα



που κοστίζει



Έδωσε 

Πόσα ρέστα θα πάρει; Ζωγράφισε εδώ.



ή



Η  αγόρασε ένα  που κοστίζει



Έδωσε 

Πόσα ρέστα θα πάρει; Ζωγράφισε εδώ.



ή

