

Φύλλο Εργασίας στα Μαθηματικά




Όνομα: _____


Τάξη: _____



€2



€4



€8



€5



€3

1

Ο Λούκας και ο Ραφαήλ αγόρασαν μια κούκλα και μια μπάλα. Πόσα πλήρωσαν;

Μαθηματική Πρόταση: _____

Απάντηση: _____



2

Ο Δημήτρης αγόρασε ένα αρκουδάκι και ένα αυτοκινητάκι. Πόσα πλήρωσε;

Μαθηματικά Πρόταση: _____

Απάντηση: _____



3

Η Άντρια και ο Μάριος αγόρασαν ένα αρκουδάκι και ένα ελικοπτεράκι. Πόσα πλήρωσαν;

Μαθηματική Πρόταση: _____

Απάντηση: _____




4

Ο Ανδρέας αγόρασε δύο αυτοκινητάκια και μια μπάλα. Πόσα πλήρωσε;

Μαθηματική Πρόταση: _____

Απάντηση: _____



5

Η Αγγελική και ο Παναγιώτης αγόρασαν τρεις μπάλες. Πόσα πλήρωσαν;

Μαθηματική Πρόταση: _____

Απάντηση: _____



Φύλλο Εργασίας στα
Μαθηματικά



Όνομα: _____ Τάξη: _____ Ημερομηνία: _____

Συμπληρώνω τις μαθηματικές προτάσεις. Χρησιμοποιώ την αριθμητική μου γραμμή ή τα ζυγάκια μου.

$2 + \square = 4$	$\square + 5 = 10$	$3 + \square = 4$
$2 + \square = 5$	$\square + 3 = 7$	$3 + \square = 5$
$4 + \square = 8$	$\square + 4 = 6$	$5 + \square = 8$
$2 + \square = 7$	$\square + 3 = 8$	$3 + \square = 7$
$3 + \square = 6$	$\square + 1 = 8$	$4 + \square = 6$
$2 + \square = 9$	$\square + 2 = 2$	$5 + \square = 9$
$4 + \square = 10$	$\square + 2 = 9$	$2 + \square = 10$
$\square + 6 = 6$	$\square + 1 = 5$	$\square + 0 = 6$



Μπράβο φιγαράκι μου! Τώρα που τελείωσες μπορείς να παίζεις.

Και συνεχίζω!
Στα Μαθηματικά ξεφτέρι
για να γίνω!



6 Ο Γιάννης κρατούσε 6 μύγα. Του έδωσε ακόμα μερικά η Μαρία και τώρα έχει 9 μύγα. Πόσα μύγα του έδωσε η Μαρία;
Μαθηματική Πρόταση: _____
Απάντηση: _____

7 Ο Μιχαήλ έχει 4 αυτοκινητάκια. Ο Γιώργος έχει 3. Πόσα αυτοκινητάκια έχουν και οι δύο μαζί;
Μαθηματική Πρόταση: _____
Απάντηση: _____

8 Η Μικαέλλα είχε 3 κούκλες. Τις έδωσε ακόμη μερικές η μαμά της και τώρα έχει 8 κούκλες. Πόσες κούκλες της έδωσε η μαμά της;
Μαθηματική Πρόταση: _____
Απάντηση: _____

9 Η Έλενα και ο Χρίστος έχουν 3 μύγα, 1 μπανάνα και 2 πορτοκάγια. Πόσα φρούτα έχουν;
Μαθηματική Πρόταση: _____
Απάντηση: _____

10 Η Ζωή είχε 3 μογγύβια. Τις έδωσε ακόμα μερικά ο Κωνσταντίνος και τώρα έχει 10. Πόσα μογγύβια της έδωσε ο Κωνσταντίνος;
Μαθηματική Πρόταση: _____
Απάντηση: _____

Γράψε 4 μαθηματικές προτάσεις
χρησιμοποιώντας τους πιο κάτω
αριθμούς.



$$\square + \square = \square$$

$$\square - \square = \square$$

$$\square + \square = \square$$

$$\square - \square = \square$$



$$\square + \square = \square$$

$$\square - \square = \square$$

$$\square + \square = \square$$

$$\square - \square = \square$$



$$\square + \square = \square$$

$$\square - \square = \square$$

$$\square + \square = \square$$

$$\square - \square = \square$$



$$\square + \square = \square$$

$$\square + \square = \square$$

$$\square - \square = \square$$

$$\square - \square = \square$$



$$\square + \square = \square$$

$$\square + \square = \square$$

$$\square - \square = \square$$

$$\square - \square = \square$$



Γράψε στους κύκλους τους αριθμούς που γείττον.

