

Όνομα: _____ Ημερομηνία: _____



1. Συμπλήρωσε τους αριθμούς που λείπουν.

| | | | | | | |
|----|--|--|--|--|----|--|
| 32 | | | | | 37 | |
|----|--|--|--|--|----|--|

| | | | | | | |
|----|--|----|--|--|--|----|
| 51 | | 53 | | | | 57 |
|----|--|----|--|--|--|----|

| | | | | | | |
|----|--|--|----|--|--|--|
| 28 | | | 31 | | | |
|----|--|--|----|--|--|--|

| | | | | | | |
|--|--|--|--|--|----|----|
| | | | | | 80 | 81 |
|--|--|--|--|--|----|----|






| | | | | | | |
|--|--|----|----|--|--|--|
| | | 73 | 74 | | | |
|--|--|----|----|--|--|--|



2. Σχημάτισε όσους περισσότερους διψήφιους αριθμούς μπορείς με τα ψηφία που κρατούν τα παιδιά.



3. Χρησιμοποίησε το σωστό σημαδάκι: <, =, >.






ΠΑΙΔΙΑ ΠΡΟΣΟΧΗ! Όταν συγκρίνουμε ή βάζουμε στη σειρά διψήφιους αριθμούς προσέχουμε πρώτα τον αριθμό των δεκάδων. ΔΜ ΔΜ

$$\underline{5}7 < \underline{7}5$$



4. Γράψε τους αριθμούς ξεκινώντας από το μικρότερο.

| | | | | | | | |
|----|----|----|----|----|----|----|----|
| 51 | 22 | 15 | 32 | 30 | 41 | 21 | 20 |
|----|----|----|----|----|----|----|----|



5. Γράψε τους αριθμούς ξεκινώντας από το μεγαλύτερο.

| | | | | | | | |
|----|----|----|----|----|----|----|----|
| 27 | 87 | 70 | 24 | 71 | 62 | 17 | 42 |
|----|----|----|----|----|----|----|----|



6. Τι κορυμπάει πάνω από το παιδάκι; Ένωσε τις τετρίες από το 1-100 για να το βρεις!

