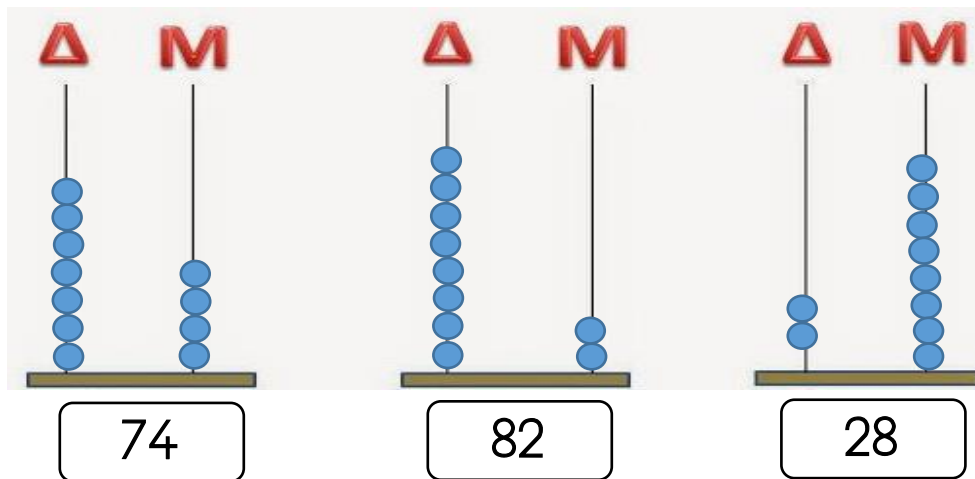
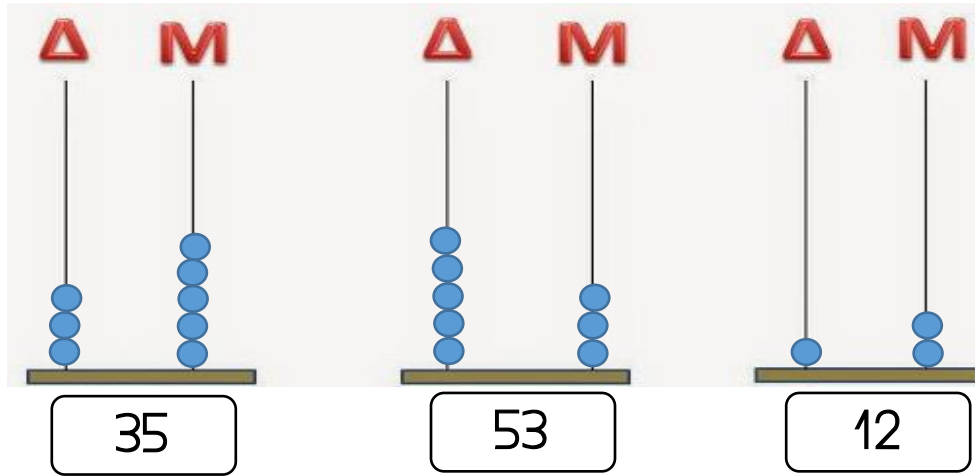
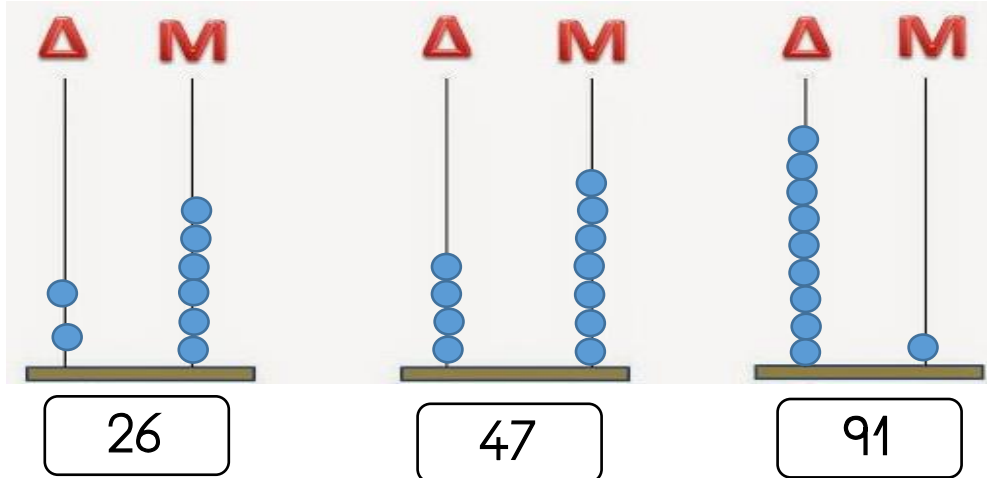








# ΜΑΘΗΜΑΤΙΚΑ ΕΠΑΝΑΛΗΨΗ

1. Δείξε τον αριθμό όπως το παράδειγμα.



2. Γράψε τον προηγούμενο και τον επόμενο αριθμό.



3. Σχημάτισε όσους περισσότερους διψήφιους αριθμούς μπορείς με τα ψηφία που κρατούν τα παιδιά.



4. Μπορείς να βρεις τον διψήφιο αριθμό;



*Πόσες είναι οι καραμέλες στο βάζο;*

- Το ψηφίο των μονάδων είναι ο μεγαλύτερος μονοψήφιος αριθμός.
- Το ψηφίο των δεκάδων είναι μεγαλύτερο από το 7 αλλά μικρότερο από το 9.



Δ	Μ
8	9

*Πόσα είναι τα πασχαλινά αυγά στο καλάθι;*

- Το ψηφίο των μονάδων είναι ο μικρότερος μονοψήφιος αριθμός.
- Το ψηφίο των δεκάδων είναι μεγαλύτερο από το 2 αλλά μικρότερο από το 5.
- Δεν είναι το 41.



Δ	Μ
3	1

5. Πόσο καγά θυμάσαι τα ζευγαράκια μέχρι το 10;

$5 + 3 = 8$	$4 + 4 = 8$	$8 - 2 = 6$
$7 - 3 = 4$	$6 + 3 = 9$	$1 + 6 = 7$
$0 + 5 = 5$	$9 - 2 = 7$	$3 + 3 = 6$
$4 + 6 = 10$	$8 + 2 = 10$	$1 + 7 = 8$
$10 - 3 = 7$	$6 - 1 = 5$	$2 + 3 = 5$
$8 - 6 = 2$	$3 - 2 = 1$	$3 + 7 = 10$
$9 - 5 = 4$	$6 - 5 = 1$	$2 + 5 = 7$
$10 - 5 = 5$	$7 - 6 = 1$	$10 - 2 = 8$
$7 - 4 = 3$	$10 - 9 = 1$	$6 - 3 = 3$

