

# Φύλλο Εργασίας στα Μαθηματικά




Όνομα: \_\_\_\_\_


Τάξη: \_\_\_\_\_



€2



€4



€8



€5



€3

1

Ο Λούκας και ο Ραφαήλ αγόρασαν μια κούκλα και μια μπάλα. Πόσα πηγήρωσαν;

Μαθηματική Πρόταση:  $8 + 2 = 10$

Απάντηση: Πηγήρωσαν €10.



2

Ο Δημήτρης αγόρασε ένα αρκουδάκι και ένα αυτοκινητάκι. Πόσα πηγήρωσε;

Μαθηματικά Πρόταση:  $5 + 4 = 9$

Απάντηση: Πηγήρωσε €9.



3

Η Άντρια και ο Μάριος αγόρασαν ένα αρκουδάκι και ένα ελικοπτεράκι. Πόσα πηγήρωσαν;

Μαθηματική Πρόταση:  $5 + 3 = 8$

Απάντηση: Πηγήρωσαν €8.




4

Ο Ανδρέας αγόρασε δύο αυτοκινητάκια και μια μπάλα. Πόσα πηγήρωσε;

Μαθηματική Πρόταση:  $4 + 4 + 2 = 10$

Απάντηση: Πηγήρωσε €10.



5

Η Αγγελική και ο Παναγιώτης αγόρασαν τρεις μπάλες. Πόσα πηγήρωσαν;

Μαθηματική Πρόταση:  $2 + 2 + 2 = 6$

Απάντηση: Πηγήρωσαν €6.



Φύλλο Εργασίας στα  
Μαθηματικά



Όνομα: \_\_\_\_\_ Τάξη: \_\_\_\_\_ Ημερομηνία: \_\_\_\_\_

Συμπληρώνω τις μαθηματικές προτάσεις. Χρησιμοποιώ την αριθμητική μου γραμμή ή τα ζυγάκια μου.

$2 + \boxed{2} = 4$	$\boxed{5} + 5 = 10$	$3 + \boxed{1} = 4$
$2 + \boxed{3} = 5$	$\boxed{4} + 3 = 7$	$3 + \boxed{2} = 5$
$4 + \boxed{4} = 8$	$\boxed{2} + 4 = 6$	$5 + \boxed{3} = 8$
$2 + \boxed{5} = 7$	$\boxed{5} + 3 = 8$	$3 + \boxed{4} = 7$
$3 + \boxed{3} = 6$	$\boxed{7} + 1 = 8$	$4 + \boxed{2} = 6$
$2 + \boxed{7} = 9$	$\boxed{0} + 2 = 2$	$5 + \boxed{4} = 9$
$4 + \boxed{6} = 10$	$\boxed{7} + 2 = 9$	$2 + \boxed{8} = 10$
$\boxed{0} + 6 = 6$	$\boxed{4} + 1 = 5$	$\boxed{6} + 0 = 6$



Μπράβο φιγαράκι μου! Τώρα που τεγείωσες μπορείς να παίζεις.

Και συνεχίζω!  
Στα Μαθηματικά ξεφτέρι  
για να γίνω!



**6** Ο Γιάννης κρατούσε 6 μύγα. Του έδωσε ακόμα μερικά η Μαρία και τώρα έχει 9 μύγα. Πόσα μύγα του έδωσε η Μαρία;  
Μαθηματική Πρόταση:  $6 + \underline{\quad} = 9$  ή  $9 - 6 = 3$   
Απάντηση: Η Μαρία του έδωσε 3 αυτοκινητάκια.

**7** Ο Μιχαήλ έχει 4 αυτοκινητάκια. Ο Γιώργος έχει 3. Πόσα αυτοκινητάκια έχουν και οι δύο μαζί;  
Μαθηματική Πρόταση:  $4 + 3 = 7$   
Απάντηση: Έχουν 7 αυτοκινητάκια.

**8** Η Μικαέλλα είχε 3 κούκλες. Τις έδωσε ακόμη μερικές η μαμά της και τώρα έχει 8 κούκλες. Πόσες κούκλες της έδωσε η μαμά της;  
Μαθηματική Πρόταση:  $3 + \underline{\quad} = 8$  ή  $8 - 3 = 5$   
Απάντηση: Η μαμά της έδωσε ακόμα 5 κούκλες.

**9** Η Έρενα και ο Χρίστος έχουν 3 μύγα, 1 μπανάνα και 2 πορτοκάλια. Πόσα φρούτα έχουν;  
Μαθηματική Πρόταση:  $3 + 1 + 2 = 6$   
Απάντηση: Έχουν 6 φρούτα.

**10** Η Ζωή είχε 3 μογγύβια. Τις έδωσε ακόμα μερικά ο Κωνσταντίνος και τώρα έχει 10. Πόσα μογγύβια της έδωσε ο Κωνσταντίνος;  
Μαθηματική Πρόταση:  $3 + \underline{\quad} = 10$  ή  $10 - 3 = 7$   
Απάντηση: Ο Κωνσταντίνος της έδωσε 7 μογγύβια.

Γράψε 4 μαθηματικές προτάσεις χρησιμοποιώντας τους πιο κάτω αριθμούς.



$$3 + 1 = 4$$

$$4 - 3 = 1$$

$$1 + 3 = 4$$

$$4 - 1 = 3$$



$$4 + 3 = 7$$

$$7 - 4 = 3$$

$$3 + 4 = 7$$

$$7 - 3 = 4$$



$$4 + 2 = 6$$

$$6 - 4 = 2$$

$$2 + 4 = 6$$

$$6 - 2 = 4$$




$$6 + 2 = 8$$

$$2 + 6 = 8$$

$$8 - 6 = 2$$

$$8 - 2 = 6$$



$$4 + 5 = 9$$

$$5 + 4 = 9$$

$$9 - 5 = 4$$

$$9 - 4 = 5$$



Γράψε στους κύκλους τους αριθμούς που γείτουν.

