

ΟΝΟΜΑ: _____

ΜΑΘΗΜΑΤΙΚΑ 1^η ΕΝΟΤΗΤΑ

Κεφ.5 Πολλαπλασιασμός και Προπαίδια ΙΙ

1. Χρωματίζω τα κουτάκια των αποτελεσμάτων της προπαίδειας του 6.

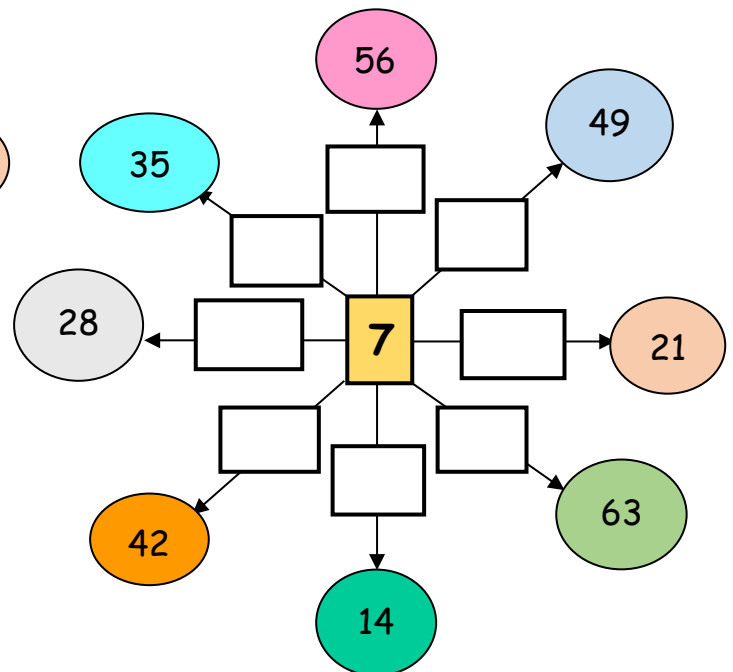
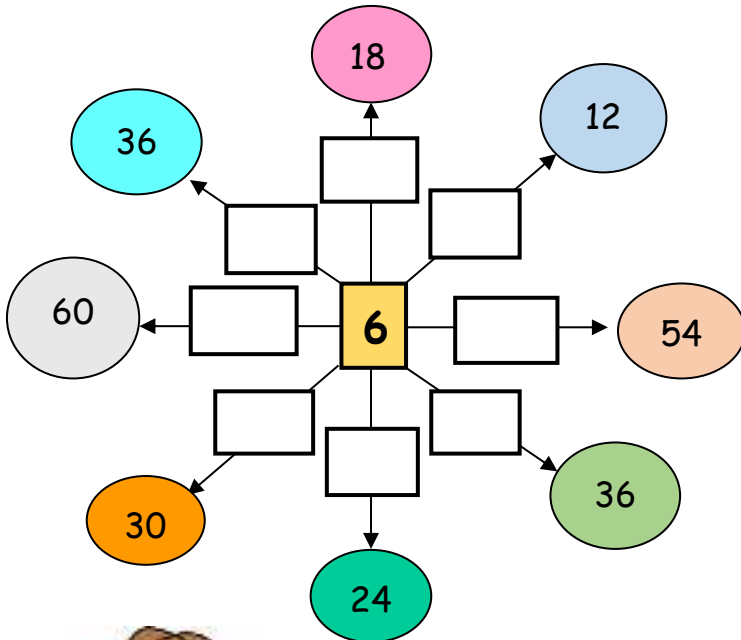


| | | | | | | | | | |
|----|----|----|----|----|----|----|----|----|----|
| 1 | 2 | 3 | 4 | 5 | 6 | 7 | 8 | 9 | 10 |
| 11 | 12 | 13 | 14 | 15 | 16 | 17 | 18 | 19 | 20 |
| 21 | 22 | 23 | 24 | 25 | 26 | 27 | 28 | 29 | 30 |
| 31 | 32 | 33 | 34 | 35 | 36 | 37 | 38 | 39 | 40 |
| 41 | 42 | 43 | 44 | 45 | 46 | 47 | 48 | 49 | 50 |
| 51 | 52 | 53 | 54 | 55 | 56 | 57 | 58 | 59 | 60 |

2. Συμπληρώνω τον πίνακα της προπαίδειας του 7.

| X | 1 | 2 | 3 | 4 | 5 | 6 | 7 | 8 | 9 | 10 |
|---|---|---|---|---|---|---|---|---|---|----|
| 7 | | | | | | | | | | |

3. Συμπληρώνω του αριθμούς στόχους με τα σωστά γινόμενα της προπαίδειας του 6 και του 7.



4. Βρίσκω το σωστό πολλαπλασιασμό για να λύσω τα παρακάτω προβλήματα:

Ο μήνας Σεπτέμβριος έχει τέσσερις εβδομάδες. Πόσες ημέρες έχει ο μήνας Σεπτέμβριος αν υποθέσουμε ότι κάθε εβδομάδα διαρκεί 7 ημέρες;



Λύση:

Απάντηση: _____

Αν σε μια πίτσα υπάρχουν 6 κομμάτια.

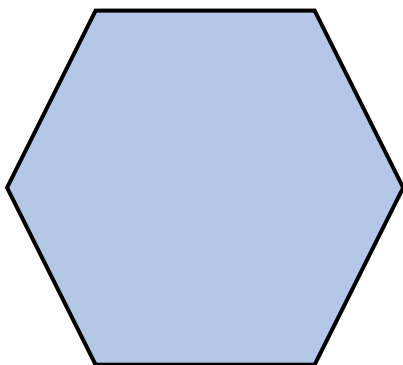
1. Πόσα κομμάτια υπάρχουν σε 3 πίτσες;
2. Πόσα κομμάτια υπάρχουν σε 9 πίτσες;



Λύση 1:

Λύση 2:

Απάντηση: _____



Ένα εξάγωνο έχει _____ πλευρές.

- 1) Πόσες πλευρές έχουν τα 5 εξάγωνα;

- 2) Πόσες πλευρές έχουν τα 7 εξάγωνα;
