


Τριψήφιοι Αριθμοί



Όνομα:

Τάξη:

1. Να γράψεις τους πιο κάτω αριθμούς με αριθμητικά σύμβολα:

Διακόσια τριάντα πέντε:

Τετρακόσια πενήντα:

Εκατό εξήντα επτά:

Εξακόσια πέντε:

Εννιακόσια ενενήντα πέντε:

Διακόσια:

Εξακόσια έξι:

Διακόσια ένα:

2. Γράψε τον επόμενο αριθμό:

353 →
199 →
640 →
458 →

639 →
500 →
324 →
789 →



3. Γράψε τον προηγούμενο αριθμό:

→ 263
 → 100
 → 524

→ 399
 → 240
 → 156









4. Βάλε στη σειρά τους πιο κάτω αριθμούς ξεκινώντας από τον πιο μικρό.

901 199 389 398 515 155 643 433 334

5. Με τα ψηφία 0, 2, 4, 6, 9 σχημάτισε πέντε τριψήφιους αριθμούς που να είναι μικρότεροι του 500

6. Γράψε τον αριθμό που αναπαριστούν οι κύβοι Dienes και στη συνέχεια ανάλυσε τους σε εκατοντάδες, δεκάδες και μονάδες.

| | | | | |
|--|--------|--------|--------|---------------------------|
|  | 1 E | 3 Δ | 4 M | 100 + 30 + 4 = 134 |
|  | E | Δ | M | |
|  | E | Δ | M | |
|  | E | Δ | M | |
|  | E | Δ | M | |
|  | E | Δ | M | |



7. Να συμπληρώσεις χρησιμοποιώντας τα σύμβολα < ή >.

345 195

109 190

271 207



475 476

288 377

438 839