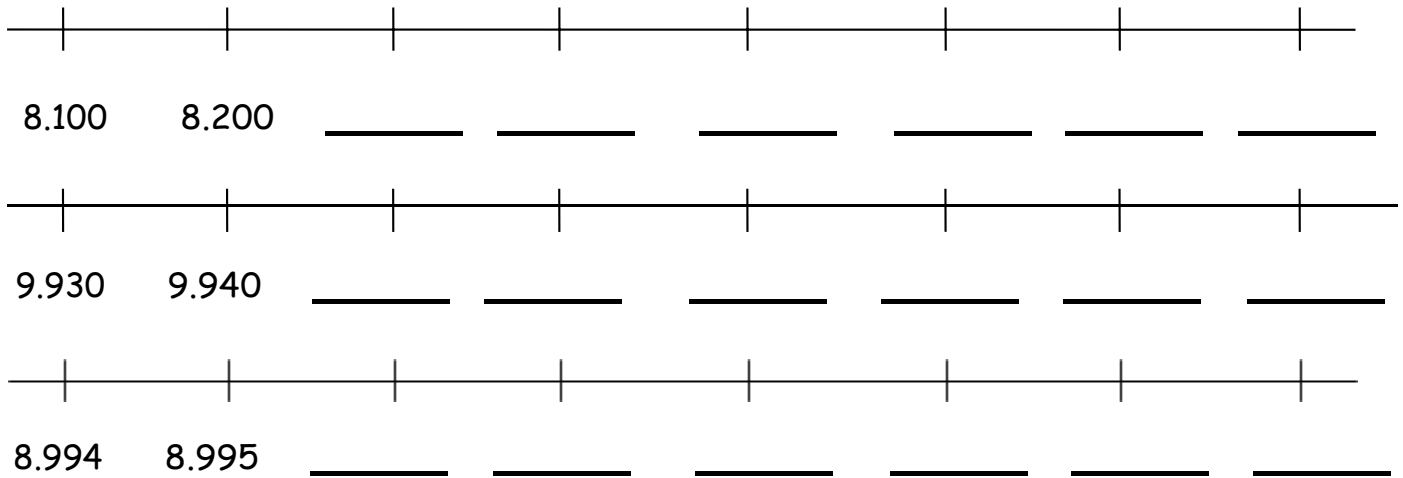


ΟΝΟΜΑ: _____

ΜΑΘΗΜΑΤΙΚΑ 9^η ΕΝΟΤΗΤΑ
Κεφ.53 Αριθμοί μέχρι το 10.000

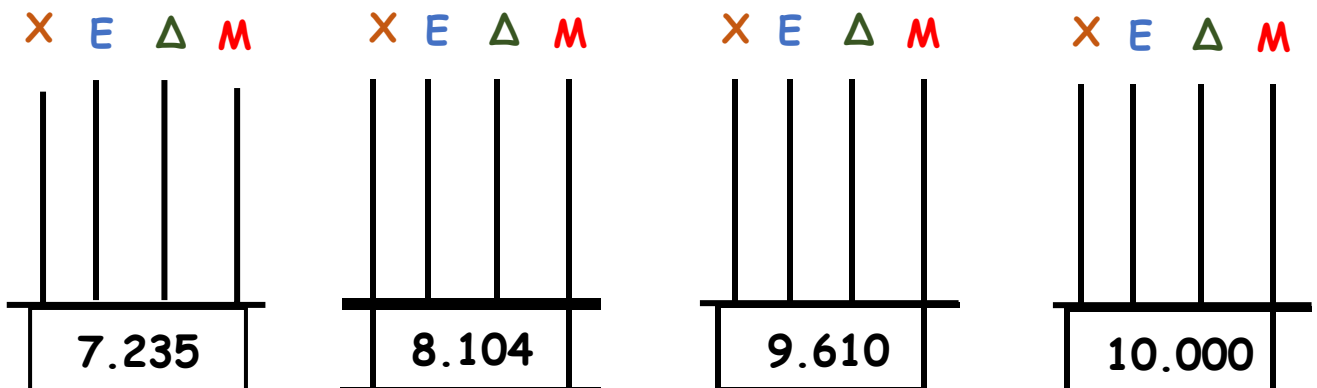
1. Συμπληρώνω τους αριθμούς που λείπουν.



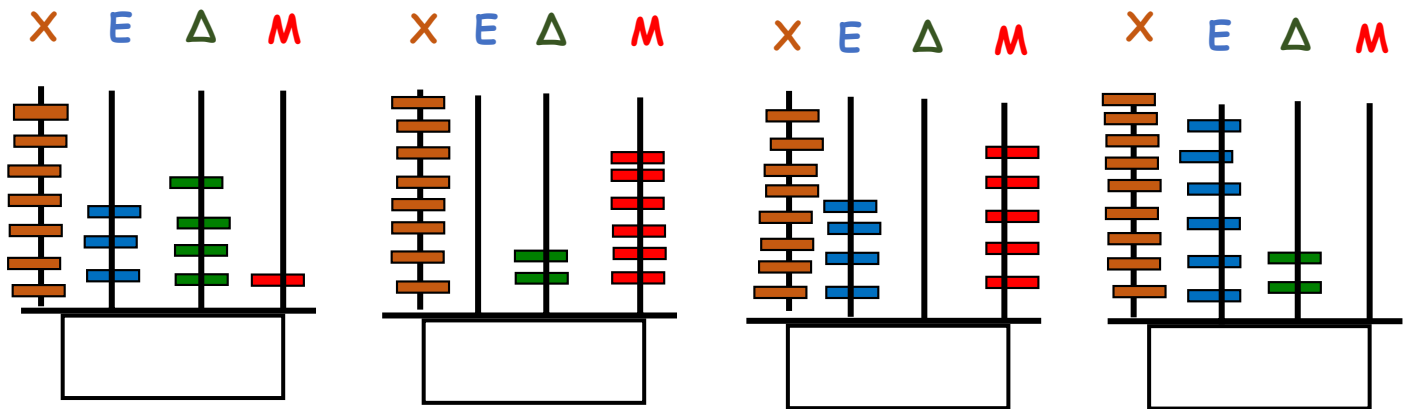
2. Συμπληρώνω τις λέξεις ή τα ψηφία που λείπουν.

7.399			επτά χιλιάδες εξακόσια τριάντα έξι
8.065			επτά χιλιάδες έντεκα
9.407			οχτώ χιλιάδες τετρακόσια δύο
9.999			εννιά χιλιάδες πέντε

3. Φτιάχνω στον άβακα τους παρακάτω αριθμούς.



4. Γράφω ποιον αριθμό δείχνει ο άβακας στα κουτάκια.



5. Βρίσκω την αξία που έχει κάθε φορά ο αριθμός 8

- 8.691 Έχει αξία: 8.000
 7.084 Έχει αξία: _____
 9.008 Έχει αξία: _____
 7.860 Έχει αξία: _____

6. Αναλύω τον κάθε αριθμό σε άθροισμα, όπως το παράδειγμα.

- 7.254 = 7.000 + 200 + 50 + 4
 8.995 = _____
 9.006 = _____
 7.800 = _____
 8.333 = _____



7. Γράφω τον προηγούμενο και τον επόμενο αριθμό σε καθέναν από τους παρακάτω αριθμούς.

- _____ 8.000 _____ _____ 7.369 _____ _____ 9.500 _____
 _____ 7.800 _____ _____ 8.270 _____ _____ 9.999 _____

8. Βρίσκω τον μεγαλύτερο και τον μικρότερο αριθμό χρησιμοποιώντας τα παρακάτω ψηφία.

Μικρότερος αριθμός: 8 6 9 7 Μεγαλύτερος αριθμός: _____